

ಪೂರ್ವ ಉಚ್ಚ ಪ್ರಾಥಮಿಕ ವಿಷ್ಯವೃತ್ತಿ ಪರೀಕ್ಷೆ (5 ನೇ ಇಯತ್ತೆ), ಮೇ 2021

ಆಸನ ಕ್ರಮಾಂಕ-

| | | | | | | | | | |
|--|--|--|--|--|--|--|--|--|--|
| | | | | | | | | | |
|--|--|--|--|--|--|--|--|--|--|

ಸಂಚ-



0 8 0 2

ಪೇಪರ್ ಕ್ರ - II

ಮಾಧ್ಯಮ - ಕನ್ನಡ

ಸಮಯ : 1:30 ರಿಂದ 3:00

ಪುಟಗಳು : 32

ತೃತೀಯ ಭಾಷೆ ಮತ್ತು ಬುದ್ಧಿಮತ್ತೆ ಚಾಚಣಿ

ಒಟ್ಟು ಗುಣಗಳು : 150

ಪ್ರಶ್ನೆ ಪತ್ರಿಕೆ ಬಿಡಿಸುವುದಕ್ಕಿಂತ ಮುಂಚೆ ಕೆಳಗಿನ ಸೂಚನೆಗಳು ಎಚರಿಕೆಯಿಂದ ಓದಿರಿ.

- (1) ಈ ಪ್ರಶ್ನೆ ಪತ್ರಿಕೆಯಲ್ಲಿ ಎರಡು ವಿಭಾಗಗಳಿವೆ. ವಿಭಾಗ I ರಲ್ಲಿ ತೃತೀಯ ಭಾಷೆಯ 1 ರಿಂದ 25 ಪ್ರಶ್ನೆಗಳಿವೆ ಮತ್ತು ವಿಭಾಗ II ರಲ್ಲಿ ಬುದ್ಧಿಮತ್ತೆ ಚಾಚಣಿ 26 ರಿಂದ 75 ಪ್ರಶ್ನೆಗಳಿವೆ. ಹೀಗೆ 75 ಪ್ರಶ್ನೆಗಳು ಇದ್ದು ಎಲ್ಲ ಪ್ರಶ್ನೆಗಳು ಬಿಡಿಸುವುದು ಅವಶ್ಯಕವಾಗಿದೆ.
- (2) ಪ್ರತಿಯೊಂದು ಪ್ರಶ್ನೆಗೆ 2 ಗುಣಗಳಿವೆ.
- (3) ಪ್ರಶ್ನೆ ಪತ್ರಿಕೆ ಬಿಡಿಸಲು ಒಟ್ಟು 90 ನಿಮಿಷಗಳ ಕಾಲಾವಧಿ ಕೊಡಲಾಗಿದೆ.
- (4) ಉತ್ತರಗಳನ್ನು ನೋಂದಾಯಿಸುವ ಸಲುವಾಗಿ ಸ್ವತಂತ್ರ ಉತ್ತರ ಪ್ರತಿಕೆ ಕೊಡಲಾಗಿದೆ. ಪ್ರತಿಯೊಂದು ಪ್ರಶ್ನೆ ಕ್ರಮಾಂಕದ ಮುಂದೆ ನಾಲ್ಕು ಪರ್ಯಾಯಕವಿರುವ ವರ್ತುಗಳನ್ನು ಕೊಡಲಾಗಿದೆ. ಅದರಲ್ಲಿ ಯೋಗ್ಯ ಉತ್ತರವಿರುವ ಪರ್ಯಾಯ ಕ್ರಮಾಂಕವಿರುವ ವರ್ತುಗಳನ್ನು ಉದಾಹರಣೆಯಲ್ಲಿ ತೋರಿಸಿದಂತೆ ನೋಂದಾಯಿಸಿರಿ. ಉದಾ - ಪ್ರಶ್ನೆ ಕ್ರಮಾಂಕ 6ರ ಉತ್ತರ 2 ಅದರ ಕೆಳಗೆ ತೋರಿಸಿದಂತೆ ವೃತ್ತವನ್ನು ಪೂರ್ಣವಾಗಿ ತುಂಬಿರಿ.
ಉದಾ. ಪ್ರಶ್ನೆ ಕ್ರ. 6 - ① ● ③ ④
- (5) ಕೆಳಗಿನಂತೆ ನೋಂದಾಯಿಸಿದ ಉತ್ತರಗಳ ಬಗ್ಗೆ ವಿಚಾರ ಮಾಡಲಾಗುವುದಿಲ್ಲ.
① ② ● ④
- (6) ಒಂದು ಪ್ರಶ್ನೆಗೆ ಒಂದಕ್ಕಿಂತ ಹೆಚ್ಚು ವರ್ತುಗಳಲ್ಲಿ ನೋಂದಾಯಿಸಿದ ಉತ್ತರಗಳು, ತಿದ್ದುಪಡಿ ಮಾಡಿ ನೋಂದಾಯಿಸಿದ ಉತ್ತರಗಳು ಗಮನಕ್ಕೆ ತೆಗೆದುಕೊಳ್ಳಲಾಗುವುದಿಲ್ಲ.
- (7) ಒಮ್ಮೆ ನೋಂದಾಯಿಸಿದ ಉತ್ತರ ಬದಲಾಯಿಸಲು ಬರುವುದಿಲ್ಲ.
- (8) ಪರ್ಯಾಯದ ಉತ್ತರ ಕ್ರಮಾಂಕಗಳನ್ನು ಕಪ್ಪು ಅಥವಾ ನಿಲಿ ಬಾಲ್ ಪೆನ್ನಿನಿಂದ ನೋಂದಾಯಿಸಬೇಕು. ಪೆನ್ನಿನಿಂದ ನೋಂದಾಯಿಸಿದ ಉತ್ತರಗಳ ಬಗ್ಗೆ ವಿಚಾರ ಮಾಡಲಾಗುವುದಿಲ್ಲ.
- (9) ಪ್ರಶ್ನೆ ಪತ್ರಿಕೆಯ ಪ್ರತಿಯೊಂದು ಪುಟದ ಕೆಳಗೆ ಮತ್ತು ಪುಟದ ಕೊನೆಯ ಮುಟದ ಮೇಲೆ ಕಚ್ಚಾ ಕೆಲಸಕ್ಕಾಗಿ ಖಾಲಿ ಸ್ಥಳವನ್ನು ಬಿಡಲಾಗಿದೆ ಅಲ್ಲಿಯೇ ಕಚ್ಚಾ ಕಾರ್ಯ ಮಾಡಬೇಕು.
- (10) ಪರೀಕ್ಷೆಗೆ ಮರ್ಯದಿತ ವೇಳೆ ಇರುವುದರಿಂದ ಒಂದು ಪ್ರಶ್ನೆಯ ಉತ್ತರ ನಿಮಗೆ ಬರದಿದ್ದರೆ, ಮುಂದಿನ ಪ್ರಶ್ನೆ ಬಿಡಿಸಿರಿ. ಕೊನೆಗೆ ವೇಳೆ ಇದ್ದರೆ ಉಳಿದಂತೆ ಪ್ರಶ್ನೆಗಳ ಬಗ್ಗೆ ಪುನಃ ಪ್ರಯತ್ನ ಮಾಡಿರಿ.
- (11) ಯಾವುದೇ ಪ್ರಶ್ನೆಯಲ್ಲಿ ತಪ್ಪು/ ದೋಷಗಳಿದ್ದರೆ ಅದರ ಬಗ್ಗೆ ಪರ್ಯಾವೇಷಕ ಅಥವಾ ಪರೀಕ್ಷೆ ಕೇಂದ್ರ ಸಂಚಾಲಕರ ಕಡೆ ವಿಚಾರಣೆ ಮಾಡಬಾರದು.
- (12) ಪ್ರಶ್ನೆಯಲ್ಲಿಯ ಯಾವುದೇ ದೋಷ/ತಪ್ಪು/ ಆಕ್ಷೇಪಣೆ ಬಗ್ಗೆ ನಿಮ್ಮ ಲಿಖಿತ ನಿವೇದನೆಯನ್ನು ಶಾಲೆಯವರು ಅಥವಾ ಪಾಲಕರು ಗಟಿಕ್ಕಣಾಧಿಕಾರಿ ಅಥವಾ ಆನ್‌ಲೈನ್ ನೋಂದಾಯಿಸಬೇಕು.
- (13) MSCE ವೆಬ್‌ಸೈಟ್‌ನಲ್ಲಿ (ಮಧ್ಯಂತರ) ಕೊನೆಯ ಉತ್ತರ ಸೂಚಿ ಪ್ರಕಟಿಸಿದ 10 ದಿನಗಳಲ್ಲಿ ದೋಷ/ತಪ್ಪು/ಆಕ್ಷೇಪಣೆ/ಸಮಸ್ಯೆಗಳನ್ನು ಆನ್‌ಲೈನ್‌ನಲ್ಲಿ ನೋಂದಾಯಿಸಬೇಕು.
- (14) ಮುದ್ರಣ ದೋಷ ಅಥವಾ ಅನ್ಯ ಕಾರಣಗಳಿಂದ ಪ್ರಶ್ನೆ ತಪ್ಪು ಎಂದು ಕಂಡು ಬಂದರೆ ತಜ್ಞ ಸಮಿತಿಯ ಅಭಿಪ್ರಾಯಕ್ಕೆ ಅನುಸಾರವಾಗಿ ಅದನ್ನು ರದ್ದುಮಾಡಲಾಗುವುದು.
- (15) ಮೂಲ ಕನ್ನಡ ಮಾಧ್ಯಮದ ಜೊತೆಗೆ ಇಂಗ್ಲಿಷ್ ಭಾಷೆಯಲ್ಲಿ ಪ್ರಶ್ನೆ ಪತ್ರಿಕೆ ಕೊಡಲಾಗಿದೆ, ಮೂಲ ಕನ್ನಡ ಮಾಧ್ಯಮದಲ್ಲಿಯ ಸಂದಿಗ್ಧ ಪ್ರಶ್ನೆಯ ಬಗ್ಗೆ ಇಂಗ್ಲಿಷ್ ಪ್ರಶ್ನೆ ನೋಡಿರಿ.

Section - I

Instructions for Q. 01 to Q. 03

Read the passage carefully and choose the correct options:

A red traffic light is a warning that means STOP. It is not safe to cross the road until the green signal lights up. Start walking when green signal is on.

In short, a red light is a warning to pay attention.

01. If Red : Stop then Green : ?

- | | |
|----------|----------|
| (1) Pay | (2) Safe |
| (3) Walk | (4) Warn |

02. Find out the rhyming word from the passage for night.

- | | |
|------------|-----------|
| (1) eight | (2) right |
| (3) slight | (4) light |

03. Select the correct adjective from the given passage.

- | | |
|-------------------------|---------------------------|
| (A) Red | (B) Green |
| (1) 'A' and 'B' correct | (2) 'B' correct |
| (3) 'A' correct | (4) 'A' and 'B' incorrect |

04. Select the set which has different sound

- (1) Camera, Castle, Cabbage, Cat
- (2) Hat, Handle, Hammer, Hand
- (3) Kitten, Kettle, Knife, Kingdom
- (4) Mat, Map, Man, Mango

SPACE FOR ROUGH WORK

05. Look at the greeting card. Read the message and choose the correct option.

Dear Teacher,
We all love you and
respect you very much.
Thank you

- (1) Happy Independence Day (2) Happy Teacher's Day
(3) Happy Mother's Day (4) Happy Diwali

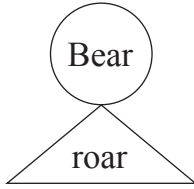
06. Choose the mismatch pair from the given options.

- (1) deer - deer (2) student - students
(3) mouse - mice (4) ox - oxes

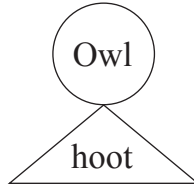
07. Select the correct option for the given word Lift :

- (1) the wall (2) the farm
(3) the river (4) the box

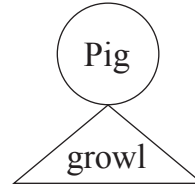
08. Choose the correct pair from the given options.



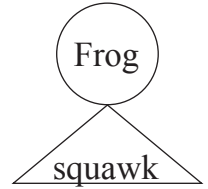
(1)



(2)



(3)




(4)

09. Choose the correct ordinal number which comes after Eleven.

- (1) Tewflth (2) Twvlfth
(3) Twelfth (4) Tweflth

SPACE FOR ROUGH WORK

10. Look at the picture and select the correct conversation which matches with the picture:



- (1) A : Please give us two full glasses of sugarcane juice.
B : But Mamma, I want some ice in my juice.
- (2) A : Give me some tomatoes
B : Where's your bag ?
- (3) A : Do you like roasted two corn-cobs?
B : Oh, I love them
- (4) A : Have you tried these cakes?
B : This is a new cake shop

11. Choose the correct opposite words for 'a' and 'b'.

| | | | |
|---|------|---|---|
| a | deep | × | ? |
| b | ugly | × | ? |

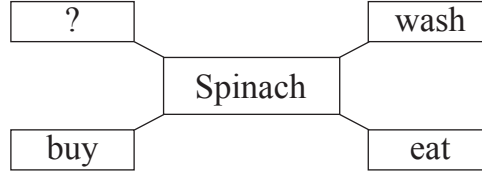
- (1) Top, Cute (2) Bottom, Sweet
(3) Shallow, Beautiful (4) Fountain, Cruel

12. Choose the correct option of the following statement which indicates the correct time 'Rita wakes up early in the morning'

- (1) 7 p.m. (2) 7 a.m.
(3) 3 p.m. (4) 12 noon

SPACE FOR ROUGH WORK

13. Complete the box by choosing the correct action word for the given word.



- (1) lump (2) scribble
(3) wobble (4) cook

14. The sign  indicates

- (1) stop (2) turn right
(3) go straight (4) turn left

15. Rearrange the numbers and make meaningful words.

v a f t i u r o e
1 2 3 4 5 6 7 8 9

- (1) 3 2 1 8 6 7 5 4 9 (2) 3 1 2 8 7 6 5 4 9
(3) 3 2 7 1 8 6 5 9 4 (4) 3 2 1 7 6 8 5 4 9

16. Solve the riddle

'I use a spanner and
a screw - driver.

Who am I?'

- (1) mechanic (2) potter
(3) milkman (4) farmer

17. Choose the correct option for the given word : Shape

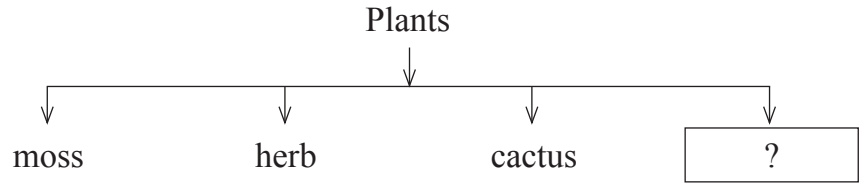
- (1) high (2) low
(3) fast (4) circle

SPACE FOR ROUGH WORK


18. Choose the correct 'Motto' from the given options
- (1) We'll all be quiet together (2) Give me a story book
(3) Protect all plants (4) Form groups of ten

19. Fill in the blank with the correct option.
He has bought electric iron.
- (1) the (2) an
(3) no article (4) a

20. Look at the diagram and choose the correct option.



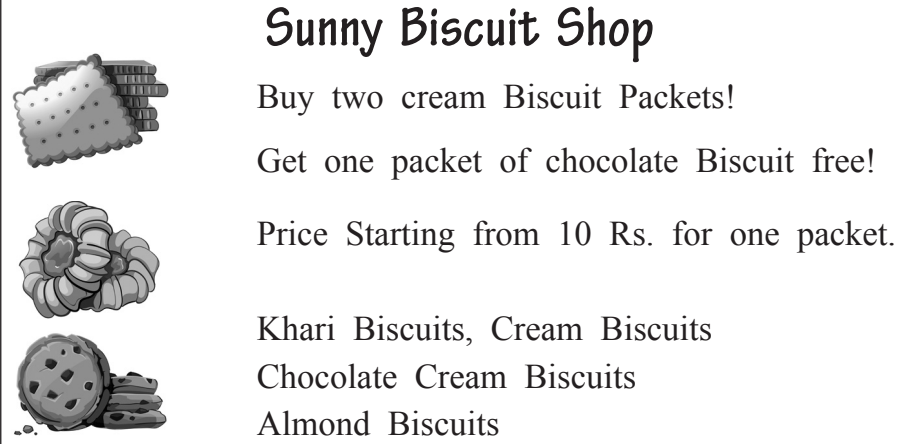
- (1) stem (2) thorn
(3) vine (4) grain
21. Look at the picture and select the correct expression



- (1) scared (2) proud
(3) shy (4) sleepy

SPACE FOR ROUGH WORK

22. Look at the advertisement and choose the correct option



Sunny Biscuit Shop

Buy two cream Biscuit Packets!
Get one packet of chocolate Biscuit free!
Price Starting from 10 Rs. for one packet.

Khari Biscuits, Cream Biscuits
Chocolate Cream Biscuits
Almond Biscuits

You can buy packets of cream biscuits and get packet of chocolate biscuits.

- (1) 1, 1 (2) 1, 2
(3) 2, 1 (4) 2, 0

23. How many capital letters should be in the given sentence.

i am sopan bhosale

- (1) 2 (2) 3
(3) 4 (4) 1

24. Choose the correct option of punctuation mark for underlined sentence.

A : What's your name

B : Tell me your name, please

C : Chandrashekhar, You can call me Chandu

- (1) ? (2) .
(3) ; (4) !

25. Choose the sentence which has correct punctuation marks.

- (1) Oh no! what shall I do now? (2) Oh, no? what shall I do now?
(3) Oh, no! What shall I do now. (4) Oh, no! what shall I do now?

SPACE FOR ROUGH WORK

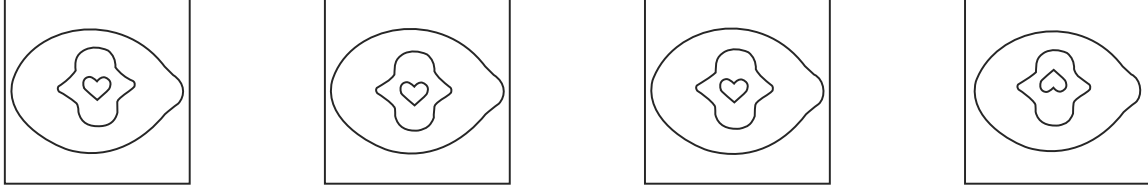
SECTION - II

INTELLIGENCE TEST

26. In the word 'EXTRAORDINARY', which is the letter at the 4th place to the right of the letter 'O'?
- | | |
|-------|-------|
| (1) X | (2) A |
| (3) T | (4) N |

Q. 27 to 31 Direction : Find the odd term.

- | | |
|-------------------|----------------|
| 27. (1) Moon | (2) Mars |
| (3) Jupiter | (4) Saturn |
| 28. (1) 9 | (2) 65 |
| (3) 26 | (4) 126 |
| 29. (1) 386 | (2) 264 |
| (3) 275 | (4) 495 |
| 30. (1) Millenium | (2) Second |
| (3) Century | (4) Light year |

31. 
- | | | | |
|-----|-----|-----|-----|
| (1) | (2) | (3) | (4) |
|-----|-----|-----|-----|

SPACE FOR ROUGH WORK

ವಿಭಾಗ - II

ಅರಿವು ಪರೀಕ್ಷೆ

26. 'ಆತಿಥಿ ಭವನ' ಈ ಶಬ್ದದಲ್ಲಿಯ 'ಥಿ' ಈ ಅಕ್ಷರದ ಬಲಬದಿಯ ಎರಡನೆಯ ಅಕ್ಷರ ಯಾವುದು ?

- | | |
|-------|--------|
| (1) ಅ | (2) ತಿ |
| (3) ನ | (4) ವ |

ಪ್ರಶ್ನೆ 27 ರಿಂದ 31 ರ ಸಲುವಾಗಿ ಸೂಚನೆ : ಗುಂಪಿಗೆ ಸೇರದ ಪದ ಗುರುತಿಸಿರಿ.


27. (1) ಚಂದ್ರ (2) ಮಂಗಳ
(3) ಗುರು (4) ಶನಿ

28. (1) 9 (2) 65
(3) 26 (4) 126

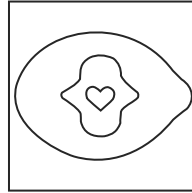
29. (1) 386 (2) 264
(3) 275 (4) 495

30. (1) ವರ್ಷ (2) ಸೆಕೆಂದು
(3) ಶತಮಾನ (4) ಕ್ವಿಂಟಲ್

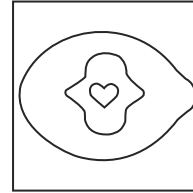
31.



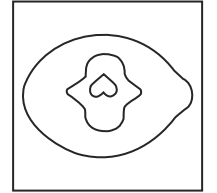
(1)



(2)



(3)



(4)

SPACE FOR ROUGH WORK

| | | | | | | | | | | | | | | | | | | | | | | | | |
|---|---|---|---|---|---|---|---|---|---|---|---|---|---|---|---|---|---|---|---|---|---|---|---|---|
| A | B | C | D | E | F | G | H | I | J | K | L | M | N | O | P | Q | R | S | T | U | V | W | X | Y |
|---|---|---|---|---|---|---|---|---|---|---|---|---|---|---|---|---|---|---|---|---|---|---|---|---|

32. In the letter series “V, M, E, T, R, L, M, E, S, O, L, M, E, T, S, Q, V, M, E, O, L”, how many times M is preceded by E and is immediately followed by T?

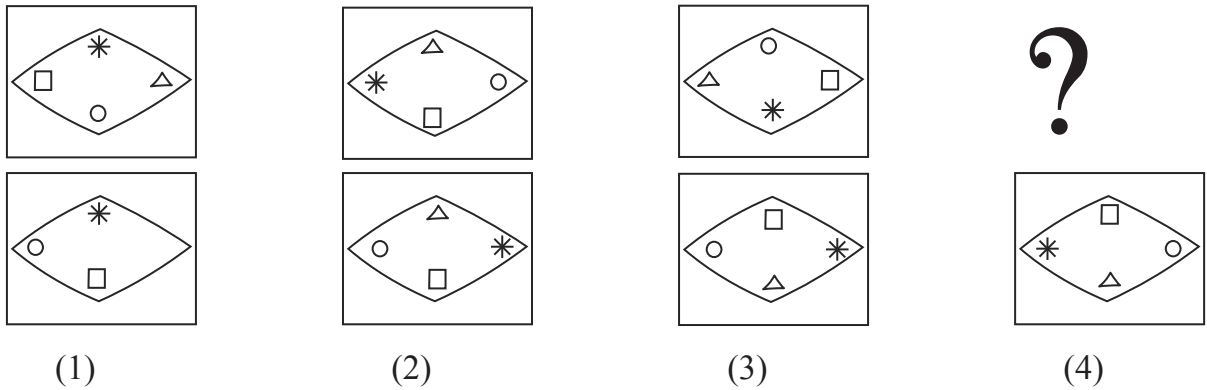
- (1) 3 (2) 2
(3) 4 (4) 1

33. Find the correct alternative to replace the question mark in the series given below.

4, 7, 13, 25, 49, ?

- (1) 59 (2) 95
(3) 97 (4) 69

34. In the given figures there is a particular sequence. Identify the sequence and find the figure which will replace the question mark.



35. **6, 8, 7, 3, 5, 9, 4, 2, 1**

In the number series by how much is the sum of prime numbers is more or less than the sum of composite numbers?

- (1) More by 10 (2) Less by 10
(3) Less by 9 (4) More by 9

SPACE FOR ROUGH WORK

| | | | | | | | | | | | | | | | | | | | | | | | | |
|---|---|---|---|---|---|---|---|---|---|---|---|---|---|---|---|---|---|---|---|---|---|---|---|---|
| A | B | C | D | E | F | G | H | I | J | K | L | M | N | O | P | Q | R | S | T | U | V | W | X | Y |
|---|---|---|---|---|---|---|---|---|---|---|---|---|---|---|---|---|---|---|---|---|---|---|---|---|

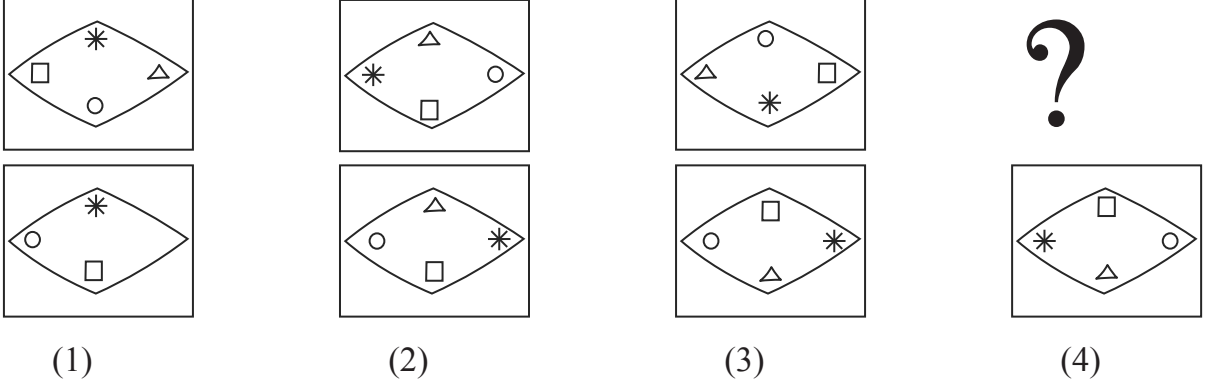
32. 'ಶ್ರೀಮಂತ, ಕೃಷ್ಣಮೂರ್ತಿ, ಕಾರ್ಯಕ್ರಮ, ಋತು, ಗೃಹಿಣಿ, ಸಮರ್ಪಣ ಪ್ರವಾಸ' ಈ ಶಬ್ದ ಸಮೂಹದಲ್ಲಿ ಒಟ್ಟು ಎಷ್ಟು ಜೋಡಾಕ್ಷರಗಳಿವೆ ?

- (1) 7 (2) 6
(3) 9 (4) 5

33. ಕೆಳಗಿನ ಸಂಖ್ಯಾ ಮಾಲಿಕೆಯಲ್ಲಿ ಪ್ರಶ್ನೆಚಿಹ್ನೆಯ ಸ್ಥಳದಲ್ಲಿ ಬರುವ ಯೋಗ್ಯ ಪರ್ಯಾಯ ಯಾವುದು ?
4, 7, 13, 25, 49, ?

- (1) 59 (2) 95
(3) 97 (4) 69

34. ಕೆಳಗಿನ ಆಕೃತಿಯಲ್ಲಿ ಒಂದು ವಿಶಿಷ್ಟ ಪ್ರಕಾರದ ಕ್ರಮವಿದೆ. ಆಕರಮ ಗುರುತಿಸಿ ಪ್ರಶ್ನೆ ಚಿಹ್ನೆಯ ಸ್ಥಳದಲ್ಲಿ ಯಾವ ಆಕೃತಿ ಬರುವುದು ಎಂಬುದನ್ನು ಪರ್ಯಾಯಗಳಿಂದ ಶೋಧಿಸಿರಿ ?



35. **6, 8, 7, 3, 5, 9, 4, 2, 1**

ಮೇಲಿನ ಸಂಖ್ಯಾ ಮಾಲಿಕೆಯಲ್ಲಿಯ ಮೂಲಸಂಖ್ಯೆಗಳ ಒಟ್ಟು ಬೇರಿಜು ಸಂಯುಕ್ತ ಸಂಖ್ಯೆಗಳ ಒಟ್ಟು ಬೇರಿಜಿಗಿಂತ ಎಷ್ಟರಿಂದ ಕಡಿಮೆ ಅಥವಾ ಹೆಚ್ಚು ಇದೆ ?

- (1) 10 ರಿಂದ ಹೆಚ್ಚಿಗೆ (2) 10 ರಿಂದ ಕಡಿಮೆ
(3) 9 ರಿಂದ ಕಡಿಮೆ (4) 9 ರಿಂದ ಹೆಚ್ಚಿಗೆ

SPACE FOR ROUGH WORK

Q. 36 and 37 : Direction :

Find out the mirror image of each of the following question figure from the alternatives given.

36. Question Figure



Answer Figure



(1)



(2)




(3)

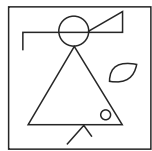


(4)


37. Question Figure



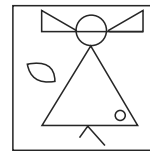
Answer Figure




(1)



(2)



(3)



(4)

38. In the given alphabetical series, which group of letters will occur at the place of question mark?

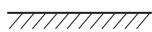

? MN ? NMM ? MNM ? N ? N

- (1) MMNMM (2) MNMNM (3) MMNMMN (4) MNMMM


Q. 39 and 40 : Direction :

In each question a problem figure is held vertical above water surface. Identify its water reflection and select the correct alternative.

39. Question Figure



Answer Figure



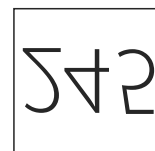
(1)



(2)



(3)



(4)

SPACE FOR ROUGH WORK

ಪ್ರಶ್ನೆ 36 ಹಾಗೂ 37ರ ಸಲುವಾಗಿ ಸೂಚನೆ :

ಕೃತಿಯ ಕನ್ನಡಿಯಲ್ಲಿಯ ಪ್ರತಿಬಿಂಬ ಹೇಗೆ ಕಾಣಿಸುವುದು ಎಂಬುದನ್ನು ಪರ್ಯಾಯ ಆಕೃತಿಗಳಿಂದ ಗುರುತಿಸಿರಿ.

36. ಪ್ರಶ್ನಾಕೃತಿ

ಉತ್ತರ - ಆಕೃತಿಗಳು



(1)



(2)



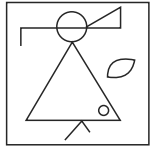

(3)




(4)

37. ಪ್ರಶ್ನಾಕೃತಿ

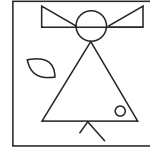
ಉತ್ತರ - ಆಕೃತಿಗಳು



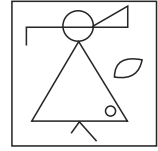
(1)



(2)



(3)



(4)

38. ಕೊಟ್ಟ ಚಿಹ್ನೆ ಮಾಲಿಕೆಯಲ್ಲಿ ಪ್ರಶ್ನೆ ಚಿಹ್ನೆಯ ಸ್ಥಳದಲ್ಲಿ ಯಾವ ಚಿಹ್ನೆಗಳ ಸಮೂಹ ಬರುವುದು ?

? MN ? NMM ? MNM ? N ? N

(1) MMNMM

(2) MNMNM

(3) MMNMM

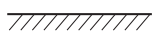
(4) MNMMM

ಪ್ರಶ್ನೆ 39 ಹಾಗೂ 40 ರ ಸಲುವಾಗಿ ಸೂಚನೆ :

ಕೊಟ್ಟ ಪ್ರಶ್ನಾಕೃತಿಯನ್ನು ನೀರಿನ ಮೇಲೆ ಹಿಡಿದಾಗ ಅದರ ಪ್ರತಿಬಿಂಬವು ನೀರಿನಲ್ಲಿ ಹೇಗೆ ಕಾಣಿಸುವುದು ಎಂಬುದನ್ನು ಪರ್ಯಾಯ ಆಕೃತಿಗಳಿಂದ ಗುರುತಿಸಿರಿ

39. ಪ್ರಶ್ನಾಕೃತಿ

ಉತ್ತರ - ಆಕೃತಿಗಳು



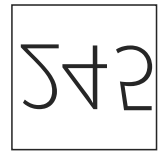
(1)



(2)



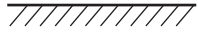
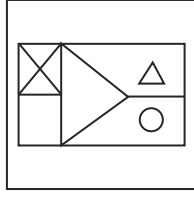
(3)



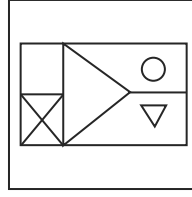
(4)

SPACE FOR ROUGH WORK

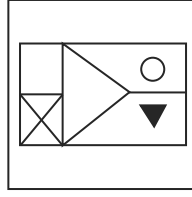
40. Question Figure



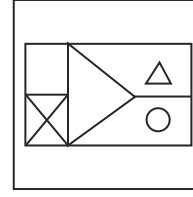
Answer Figure



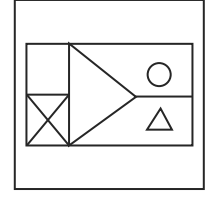
(1)



(2)



(3)



(4)

41. Find the correct alternative to replace the question mark in the given number series.

13, 15, 19, 27, ?

(1) 35

(2) 27

(3) 32

(4) 30

42.

ABCDE FGHIJ KLMNO PQRST UVWXY

In the given alphabetical series, write the left adjacent letter, of the letter which is at seventh place from the right end?

(1) E

(2) T

(3) R

(4) Y

Q. 43 to 47 : Direction :

In the following questions, first pair has same relationship between first two terms. The same relation holds true for the second pair. Identify the relation and select the correct alternative.

43. Bhakri : Jowar :: Butter : ?

(1) Sugarcane

(2) Raw Mango

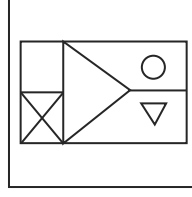
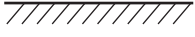
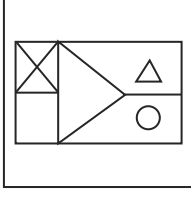
(3) Milk

(4) Bajra

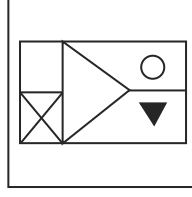
SPACE FOR ROUGH WORK

40. ಪ್ರಶ್ನಾಕೃತಿ

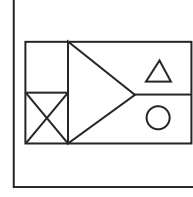
ಉತ್ತರ - ಆಕೃತಿಗಳು



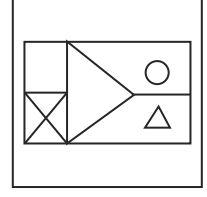
(1)



(2)



(3)



(4)

41. ಕೊಟ್ಟ ಸಂಖ್ಯಾ ಮಾಲಿಕೆಯಲ್ಲಿ ಪ್ರಶ್ನೆಚಿಹ್ನೆಯ ಸ್ಥಳದಲ್ಲಿ ಬರುವ ಸಂಖ್ಯೆ ಯಾವುದು ?

13, 15, 19, 27, ?

(1) 35

(2) 27

(3) 32

(4) 30

42.

ABCDE FGHIJ KLMNO PQRST UVWXY

ಮೇಲಿನ ಅಕ್ಷರಮಾಲೆಯಲ್ಲಿ ಬಲಬದಿಯಿಂದ ಏಳನೆಯ ಅಕ್ಷರದ ಎಡಬದಿಗೆ ಯಾವ ಅಕ್ಷರ ಇದೆ ?

(1) E

(2) T

(3) R

(4) Y

ಪ್ರಶ್ನೆ 43 ರಿಂದ 47 ರ ಸಲುವಾಗಿ ಸೂಚನೆ:

ಕೊಟ್ಟ ಪ್ರಶ್ನೆಗಳಲ್ಲಿ ಮೊದಲನೆಯ ಹಾಗೂ ಎರಡನೆಯ ಪದಗಳಲ್ಲಿ ಯಾವ ರೀತಿ ಸಂಬಂಧವಿದೆಯೋ ಅದೇ ರೀತಿ ಸಂಬಂಧ ಮೂರನೆಯ ಹಾಗೂ ನಾಲ್ಕನೆಯ ಪದಗಳಲ್ಲಿ ಇದೆ. ಆ ಸಂಬಂಧ ಗುರುತಿಸಿ ಪ್ರಶ್ನೆ ಚಿಹ್ನೆಯ ಸ್ಥಳದಲ್ಲಿ ಬರುವ ಯೋಗ್ಯ ಪರ್ಯಾಯ ಆರಿಸಿರಿ.

43. ರೊಟ್ಟಿ : ಜೋಳ :: ಬೆಣ್ಣೆ : ?

(1) ಕಬ್ಬು

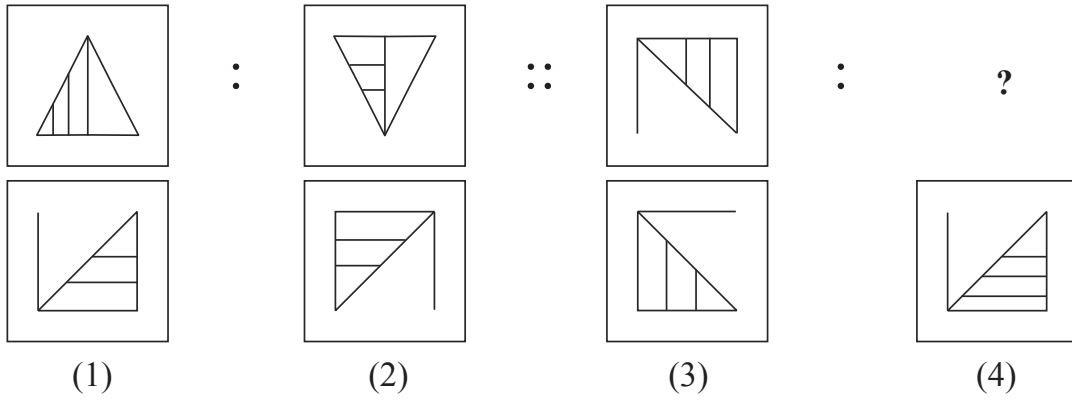
(2) ಮಾವು

(3) ಹಾಲು

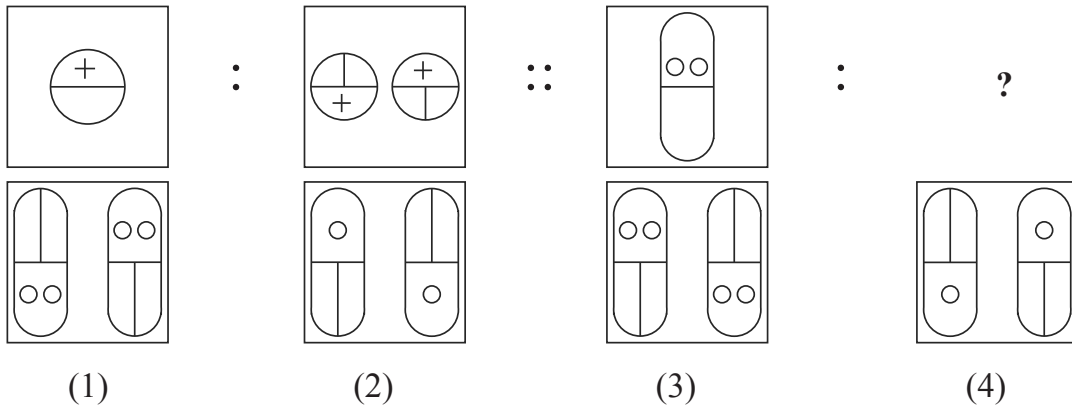
(4) ಸಜ್ಜೆ

SPACE FOR ROUGH WORK

44.



45.



46.

4 : 18 :: 6 :: ?
 (1) 19 (2) 22 (3) 18 (4) 27

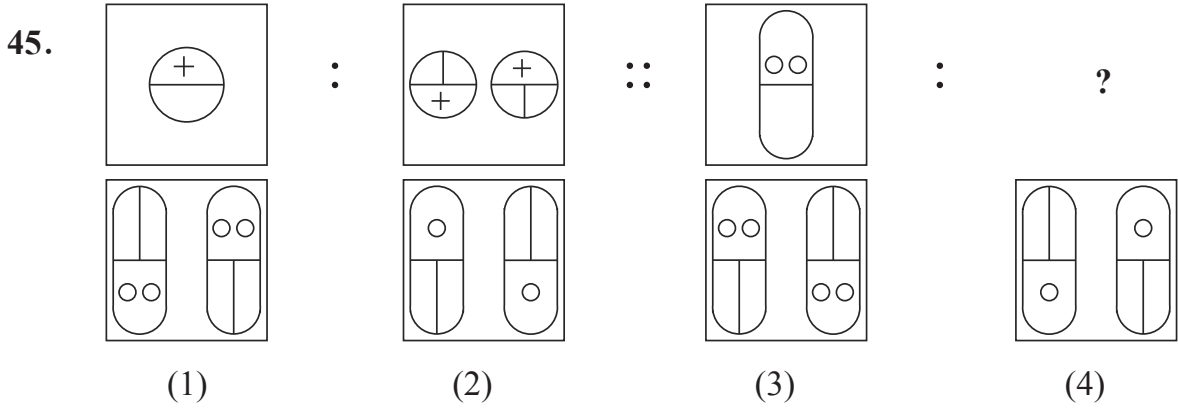
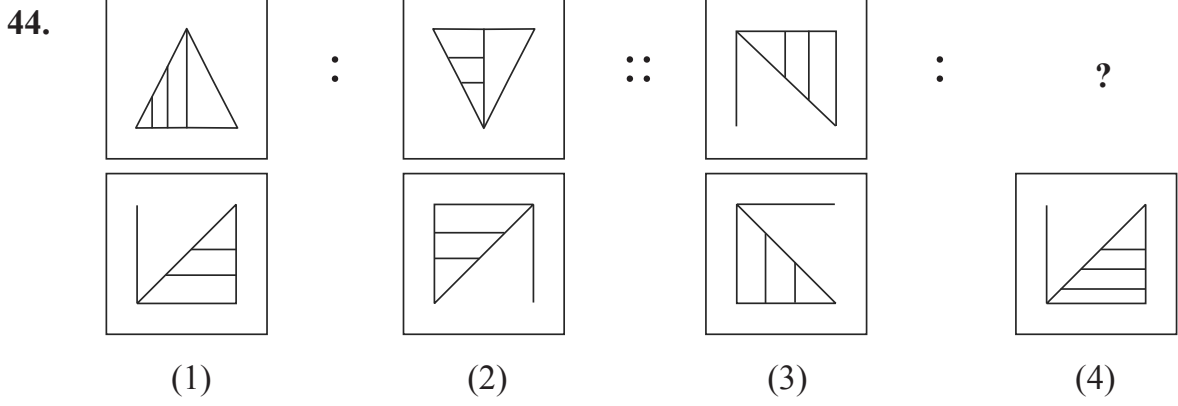
47.

26 : 38 :: 48 : ?
 (1) 52 (2) 80 (3) 48 (4) 64

48.

Find the odd term in the given series.
 3, 4, 6, 10, 22, 34
 (1) 6 (2) 10 (3) 22 (4) 34

SPACE FOR ROUGH WORK



46. 4 : 18 :: 6 : ?
 (1) 19 (2) 22 (3) 18 (4) 27

47. 26 : 38 :: 48 : ?
 (1) 52 (2) 80 (3) 48 (4) 64

48. ಕೆಳಗಿನ ಸಂಖ್ಯಾ ಮಾಲಿಕೆಯಲ್ಲಿ ತಪ್ಪಾದ ಪದವನ್ನು ಗುರುತಿಸಿರಿ.
 3, 4, 6, 10, 22, 34
 (1) 6 (2) 10 (3) 22 (4) 34

SPACE FOR ROUGH WORK

| | | | | | | | | | | | | | | | | | | | | | | | | |
|---|---|---|---|---|---|---|---|---|---|---|---|---|---|---|---|---|---|---|---|---|---|---|---|---|
| A | B | C | D | E | F | G | H | I | J | K | L | M | N | O | P | Q | R | S | T | U | V | W | X | Y |
|---|---|---|---|---|---|---|---|---|---|---|---|---|---|---|---|---|---|---|---|---|---|---|---|---|

49. Swati is eight years older than Kranti. The sum of the present ages of both the girls is 44. Find the age of Swati eight years before?


- (1) 52 (2) 36 (3) 34 (4) 18

50. If Rat is called Cat, Cat is called Donkey, Donkey is called Dog, Dog is called Deer, Deer is called Human, Human is called Rabbit, Rabbit is called Calf then who is the most intelligent animal among them?


- (1) Human (2) Calf (3) Rabbit (4) Dog

Q. 51 and 52 : Direction : Find out the figure which exactly matches with the question figure from the four alternative figures given below.


51. **Question Figure**




Answer Figure




(1)



(2)

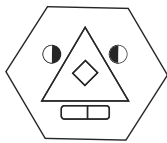


(3)

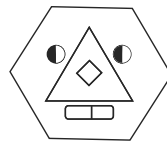


(4)

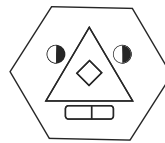
52. **Question Figure**



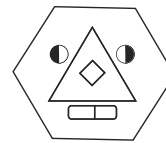
Answer Figure



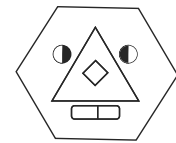
(1)



(2)



(3)



(4)

53. In a shop, there are few sacks of Wheat, Jowar, Bajra, Tur, Sugar. The number of sacks of Sugar's is twice the total of all other sacks. All other sacks of grains are equal i.e. each of 12. Find out the total number of sacks in the shop?

- (1) 60 (2) 144 (3) 96 (4) 180

SPACE FOR ROUGH WORK

| | | | | | | | | | | | | | | | | | | | | | | | | |
|---|---|---|---|---|---|---|---|---|---|---|---|---|---|---|---|---|---|---|---|---|---|---|---|---|
| A | B | C | D | E | F | G | H | I | J | K | L | M | N | O | P | Q | R | S | T | U | V | W | X | Y |
|---|---|---|---|---|---|---|---|---|---|---|---|---|---|---|---|---|---|---|---|---|---|---|---|---|


49. ಸ್ವಾತಿಯ ಕ್ರಾಂತಿಯಕ್ಕಿಂತಲೂ 8 ವರ್ಷ ದೂಡ್ಡವಳಿದ್ದಾಳೆ. ಅವರಿಬ್ಬರ ಇಂದಿನ ವಯಸ್ಸುಗಳ ಬೇರೀಜು 44 ವರ್ಷ ಇದೆ. ಹಾಗಾದರೆ ಎಂಟು ವರ್ಷದ ಮೊದಲು ಸ್ವಾತಿಯ ವಯಸ್ಸು ಎಷ್ಟು ಇತ್ತು ?
 (1) 52 (2) 36 (3) 34 (4) 18

50. ಇಲಿಗೆ ಬೆಕ್ಕು ಎನ್ನುವರು, ಬೆಕ್ಕಿಗೆ ಕತ್ತೆ ಎನ್ನುವರು, ಕತ್ತೆಗೆ ನಾಯಿ ಎನ್ನುವರು, ನಾಯಿಗೆ ಜಿಂಕೆ ಎನ್ನುವರು, ಜಿಂಕೆಗೆ ಮನುಷ್ಯ ಎನ್ನುವರು, ಮನುಷ್ಯನಿಗೆ ಮೊಲ ಎನ್ನುವರು, ಮೊಲಕ್ಕೆ ಕುರಿ ಎನ್ನುವರು ಹಾಗಾದರೆ ಎಲ್ಲಕ್ಕೂ ಬುದ್ಧಿವಂತ ಪ್ರಾಣಿ ಯಾವುದು ?
 (1) ಮನುಷ್ಯ (2) ಕುರಿ (3) ಮೊಲ (4) ನಾಯಿ


ಪ್ರಶ್ನೆ ಕ್ರಮಾಂಕ 51 ಹಾಗೂ 52 ರ ಸಲುವಾಗಿ ಸೂಚನೆ :

ಕೊಟ್ಟ ಆಕೃತಿಗೆ ಸಂಪೂರ್ಣವಾಗಿ ಹೊಂದುವ ಆಕೃತಿಯನ್ನು ಪರ್ಯಾಯದಿಂದ ಗುರುತಿಸಿರಿ.


51. ಪ್ರಶ್ನಾಕೃತಿ




ಉತ್ತರ - ಆಕೃತಿಗಳು




(1)



(2)

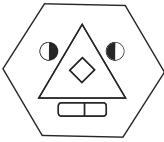


(3)

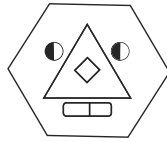


(4)

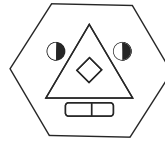
52. ಪ್ರಶ್ನಾಕೃತಿ



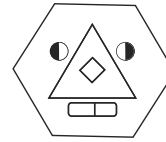
ಉತ್ತರ - ಆಕೃತಿಗಳು



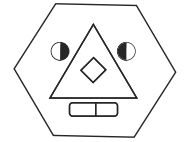
(1)



(2)



(3)



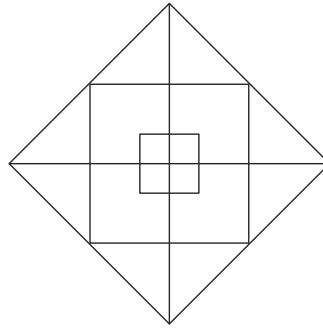
(4)

53. ಒಂದು ಅಂಗಡಿಯಲ್ಲಿ ಗೋಧಿ, ಜೋಳ, ಸಜ್ಜೆ, ತೊಗರಿ, ಸಕ್ಕರೆ ಇವುಗಳ ಕೆಲವು ಚೀಲಗಳಿವೆ. ಅವುಗಳಲ್ಲಿ ಸಕ್ಕರೆಯ ಚೀಲಗಳು ಉಳಿದ ಎಲ್ಲ ಧಾನ್ಯಗಳ ಒಟ್ಟು ಚೀಲಗಳಿಗಿಂತ ಎರಡು ಹೆಚ್ಚಿಗೆ ಇವೆ. ಸಕ್ಕರೆಯ ಚೀಲಗಳ ಹೊರತಾಗಿ ಉಳಿದ ಎಲ್ಲ ಧಾನ್ಯಗಳ ಚೀಲಗಳು ಪ್ರತಿಯೊಂದು 12 ಇವೆ. ಹಾಗಾದರೆ ಅಂಗಡಿಯಲ್ಲಿರುವ ಒಟ್ಟು ಚೀಲಗಳ ಸಂಖ್ಯೆ ಎಷ್ಟು ?

(1) 60 (2) 144 (3) 96 (4) 180

SPACE FOR ROUGH WORK

54. Find out the total numbers of squares present in the given figure.



- (1) 8 (2) 9 (3) 11 (4) 12

Q. 55 to 59 : Direction :

In each of the following questions three words are given with some common relation. So their group is formed. Select a word from the alternatives given which has the same common feature of the given group.



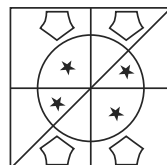

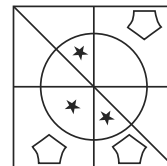
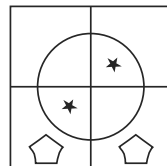
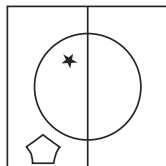
55. Sugar, Salt, Washing soda, _____

- (1) Alum powder (2) Turmeric powder (3) Oil (4) Sand

56. Onion, Garlic, Potato, _____

- (1) Sweet potato (2) Radish (3) Beet root (4) Ginger

57.



(1)

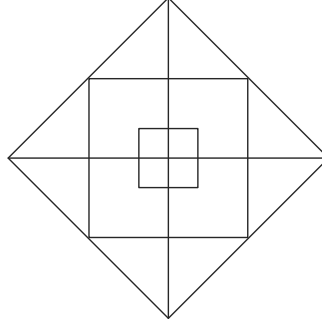
(2)

(3)

(4)

SPACE FOR ROUGH WORK

54. ಕೊಟ್ಟ ಅಕೃತಿಯಲ್ಲಿಯ ಒಟ್ಟು ಚೌರಸಗಳ ಸಾಂಖ್ಯೆ ಎಷ್ಟು ?



- (1) 8 (2) 9 (3) 11 (4) 12

ಪ್ರಶ್ನೆ ಕ್ರಮಾಂಕ 55ರಿಂದ 59ರ ಸಲುವಾಗಿ ಸೂಚನೆ :

ಪ್ರಶ್ನೆಯ ಪ್ರಾರಂಭದಲ್ಲಿ ಮೂರು ಪದಗಳನ್ನು ಕೊಡಲಾಗಿದೆ, ಅವುಗಳ ಕೆಲವು ವೈಶಿಷ್ಟ್ಯ ಇವೆ ಆದ್ದರಿಂದ ಅವುಗಳ ಒಂದು ಗುಂಪು ತಯಾರಾಗುವುದು, ಆ ಗುಂಪಿಗೆ ಹೊಂದುವ ಪದವನ್ನು ಪರ್ಯಾಯಗಳಿಂದ ಗುರುತಿಸಿರಿ.



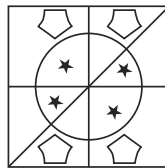

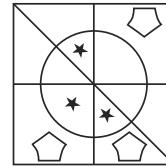
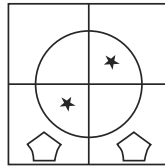
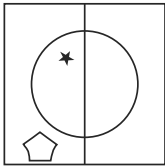
55. ಸಕ್ಕರೆ, ಉಪ್ಪು, ಒಗೆಯುವ ಸೋಡಾ

- (1) ಪಟಕ (2) ಅರಸಿಣಪುಡಿ (3) ಎಣ್ಣೆ (4) ಉಸುಕು

56. ಈರುಳ್ಳಿ, ಬೆಳ್ಳುಳ್ಳಿ, ಬಟಾಟೆ _____

- (1) ಗೆಣಸು (2) ಮೂಲಂಗಿ (3) ಬೀಟರೂಟ (4) ಶುಂಠಿ

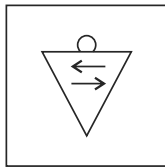
57.



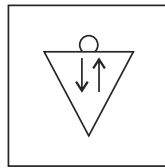
- (1) (2) (3) (4)

SPACE FOR ROUGH WORK

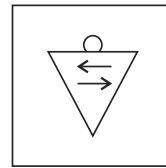
58.



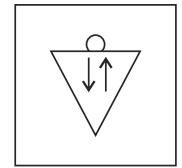

(1)



(2)



(3)



(4)

59. 3412, 4520, 2510, _____


(1) 1234

(2) 2020

(3) 5402

(4) 4416

60. Find out the number of triangles in the given figure.



(1) 14

(2) 11

(3) 10

(4) 13

61. John and Mois are standing in a row. John is at 17th place from the beginning and 8th from back. On the other hand Mois is 6th from the beginning then what will be his position from back?

(1) 24

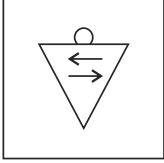
(2) 19

(3) 18

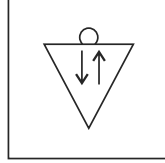
(4) 17

SPACE FOR ROUGH WORK

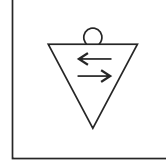
58.



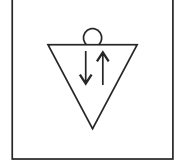
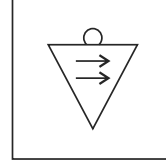
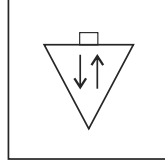

(1)



(2)



(3)



(4)

59.

3412, 4520, 2510, _____

(1) 1234


(2) 2020

(3) 5402

(4) 4416

60.

ಕೊಟ್ಟ ಅಕ್ಷತಿಯಲ್ಲಿರುವ ಒಟ್ಟು ತ್ರಿಕೋನಗಳ ಸಂಖ್ಯೆ ಎಷ್ಟು ?



(1) 14

(2) 11

(3) 10

(4) 13

61.

ಜಾನ ಹಾಗೂ ಮೊಯಿಸ್ ಒಂದು ಸಾಲಿನಲ್ಲಿ ನಿಂತಿದ್ದಾರೆ. ಜಾನನ ಕ್ರಮಾಂಕವು ಮುಂದಿನಿಂದ 17ನೆಯ ಹಾಗೂ ಹಿಂದಿನಿಂದ 8 ನೆಯದಾಗಿದೆ. ಹಾಗಾದರೆ ಆದೇ ಸಾಲಿನಲ್ಲಿ ನಿಂತಿರುವ ಮೊಯಿಸ್‌ನ ಕ್ರಮಾಂಕವು ಮುಂದಿನಿಂದ 6ನೆಯ ದ್ದಾಗಿದ್ದರೆ ಅವನ ಕ್ರಮಾಂಕವು ಹಿಂದಿನಿಂದ ಎಷ್ಟನೆಯದಾಗಿರುತ್ತದೆ ?

(1) 24

(2) 19

(3) 18

(4) 17

SPACE FOR ROUGH WORK

| | | | | | | | | | | | | | | | | | | | | | | | | |
|---|---|---|---|---|---|---|---|---|---|---|---|---|---|---|---|---|---|---|---|---|---|---|---|---|
| A | B | C | D | E | F | G | H | I | J | K | L | M | N | O | P | Q | R | S | T | U | V | W | X | Y |
|---|---|---|---|---|---|---|---|---|---|---|---|---|---|---|---|---|---|---|---|---|---|---|---|---|

62. Rashid is standing facing North East. He turned to his left 3 times in right angles. Which of the following directions will be there to his right?

- (1) South West (2) North West (3) North (4) North East

Q. 63 and 64 : Direction :

In the code language few numbers are denoted using symbols. Study them and find the correct alternative.

| | | | | | | | | | | |
|---------|---|---|---|---|---|---|---|---|---|---|
| Numbers | 0 | 1 | 2 | 3 | 4 | 5 | 6 | 7 | 8 | 9 |
| Symbols | + | ★ | ○ | □ | ● | ▽ | × | | @ | △ |

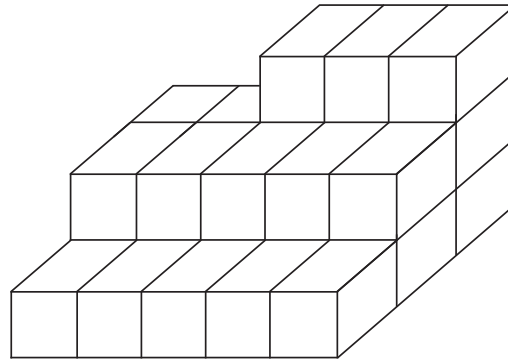
63. △ Subtract □ Multiply + Add ×

- (1) 12 (2) 15 (3) 6 (4) 9

64. ▽ Add || Subtract △ Divide □

- (1) 9 (2) 8 (3) 2 (4) 6

65. In the given figure, how many cubical boxes are there?



- (1) 13 (2) 28 (3) 18 (4) 23

SPACE FOR ROUGH WORK

| | | | | | | | | | | | | | | | | | | | | | | | | |
|---|---|---|---|---|---|---|---|---|---|---|---|---|---|---|---|---|---|---|---|---|---|---|---|---|
| A | B | C | D | E | F | G | H | I | J | K | L | M | N | O | P | Q | R | S | T | U | V | W | X | Y |
|---|---|---|---|---|---|---|---|---|---|---|---|---|---|---|---|---|---|---|---|---|---|---|---|---|

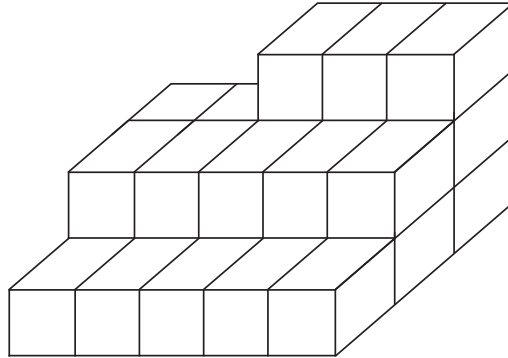
62. ರಶೀದನು ಈಶಾನ್ಯ ದಿಕ್ಕಿಗೆ ಮುಖ ಮಾಡಿ ನಿಂತಿದ್ದಾನೆ. ಅವನು ಎಡಬದಿಗೆ ಕಾಟಕೋನದಲ್ಲಿ ಮೂರು ಸಲ ತಿರುಗಿದನು ಹಾಗಾದರೆ ಈಗ ಅವನ ಬಲಬದಿಗೆ ಇರುವ ದಿಕ್ಕು ಯಾವುದು ?
 (1) ನೈರುತ್ಯ (2) ವಾಯುವ್ಯ (3) ಉತ್ತರ (4) ಈಶಾನ್ಯ

ಪ್ರಶ್ನೆ ಕ್ರಮಾಂಕ 63 ಹಾಗೂ 64ರ ಸಲುವಾಗಿ ಸೂಚನೆ :

ಒಂದು ಸಾಂಕೇತಿಕ ಭಾಷೆಯಲ್ಲಿ ಅಂಕಗಳ ಸಲುವಾಗಿ ಕೆಲವು ಚಿಹ್ನೆಗಳನ್ನು ಕೊಡಲಾಗಿದೆ. ಅವುಗಳ ವಿಚಾರ ಮಾಡಿ ಯೋಗ್ಯ ಪರ್ಯಾಯ ಆರಿಸಿರಿ.

| | | | | | | | | | | |
|-----------|---|---|---|---|---|---|---|---|---|---|
| ಅಂಕಗಳು | 0 | 1 | 2 | 3 | 4 | 5 | 6 | 7 | 8 | 9 |
| ಚಿಹ್ನೆಗಳು | + | ★ | ○ | □ | ● | ▽ | × | | @ | △ |

63. Δ ವಜಾ \square ಗುಣಲೆ + ಬೇರೀಜು \times
 (1) 12 (2) 15 (3) 6 (4) 9
64. ∇ ಬೇರೀಜು || ವಜಾ Δ ಭಾಗಲೆ \square
 (1) 9 (2) 8 (3) 2 (4) 6
65. ಕೊಟ್ಟ ಆಕೃತಿಯಲ್ಲಿ ಒಟ್ಟು ಎಷ್ಟು ಘನಾಕೃತಿ ತುಂಡುಗಳಿವೆ ?



- (1) 13 (2) 28 (3) 18 (4) 23

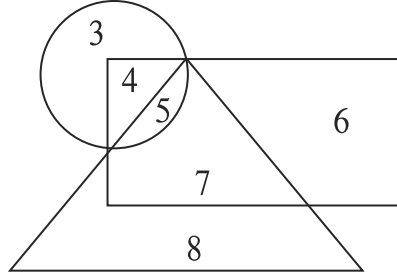
SPACE FOR ROUGH WORK

| | | | | | | | | | | | | | | | | | | | | | | | | |
|---|---|---|---|---|---|---|---|---|---|---|---|---|---|---|---|---|---|---|---|---|---|---|---|---|
| A | B | C | D | E | F | G | H | I | J | K | L | M | N | O | P | Q | R | S | T | U | V | W | X | Y |
|---|---|---|---|---|---|---|---|---|---|---|---|---|---|---|---|---|---|---|---|---|---|---|---|---|

66. ಸನ್ 2017ರ ಪ್ರಜಾಸತ್ತಾತ್ಮಕ ದಿನ ಬುಧವಾರ ಬಂದಿತ್ತು. ಹಾಗಾದರೆ ಆ ವರ್ಷ ಡಾ|| ಬಾಬಾಸಾಹೇಬ ಅಂಬೇಡಕರರ ಜಯಂತಿ ಯಾವ ದಿನ ಬಂದಿರಬಹುದು ?

- (1) ಶನಿವಾರ (2) ರವಿವಾರ (3) ಗುರುವಾರ (4) ಶುಕ್ರವಾರ

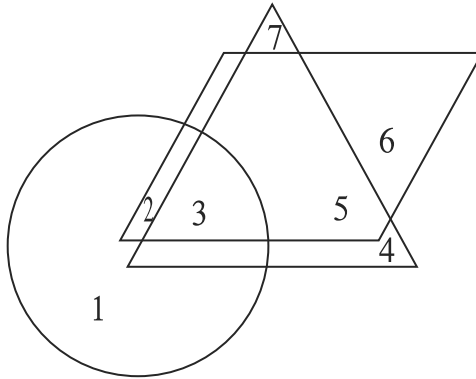
67. ಕೊಟ್ಟ ವೆನ್ ಆಕೃತಿಯನ್ನು ಕಾಳಜಿಪೂರ್ವಕವಾಗಿ ನಿರೀಕ್ಷಿಸಿ ಕೆಳಗಿನ ಪ್ರಶ್ನೆಗಳ ಉತ್ತರಗಳನ್ನು ಗುರುತಿಸಿರಿ.
 ಪ್ರಶ್ನೆ : ಕೇವಲ ಚೌಕೋನ, ಕೇವಲ ತ್ರಿಕೋನದಲ್ಲಿ ಇರುವ ಅಂಕಗಳು ಹಾಗೂ ಕೇವಲ ವರ್ತುಳ, ಕೇವಲ ಚೌಕೋನದಲ್ಲಿ ಇರುವ ಅಂಕಗಳು, ಇವುಗಳ ಬೇರೀಜಿನಲ್ಲಿಯ ವ್ಯತ್ಯಾಸ ಎಷ್ಟು ?



- (1) 23 (2) 5 (3) 6 (4) 2

68. ಕೆಳಗಿನ ವೆನ್ ಆಕೃತಿಯಲ್ಲಿಯ ತ್ರಿಕೋನದಲ್ಲಿ ಸಂಗೀತಕಾರರ, ಚೌಕೋನದಲ್ಲಿ ಗಾಯಕರ, ವರ್ತುಳದಲ್ಲಿ ನಟರ ಸಂಖ್ಯೆದರ್ಶಿಸಲಾಗಿದೆ. ಅದರ ನಿರೀಕ್ಷಣೆ ಮಾಡಿ ಪ್ರಶ್ನೆಯ ಉತ್ತರ ಗುರುತಿಸಿರಿ.

ಪ್ರಶ್ನೆ : ಸಂಗೀತಕಾರ, ಗಾಯಕ ಹಾಗೂ ನಟ ಈ ಮೂರು ಗುಣ ಹೊಂದಿರುವವರ ಒಟ್ಟು ಸಂಖ್ಯೆ ಎಷ್ಟು ?



- (1) 3 (2) 4 (3) 5 (4) 2

SPACE FOR ROUGH WORK

| | | | | | | | | | | | | | | | | | | | | | | | | |
|---|---|---|---|---|---|---|---|---|---|---|---|---|---|---|---|---|---|---|---|---|---|---|---|---|
| A | B | C | D | E | F | G | H | I | J | K | L | M | N | O | P | Q | R | S | T | U | V | W | X | Y |
|---|---|---|---|---|---|---|---|---|---|---|---|---|---|---|---|---|---|---|---|---|---|---|---|---|

69. 1st February 2016 was Monday. What was the day on 1st February 2010?

- (1) Monday (2) Tuesday (3) Thursday (4) Friday

70. Select the number to replace the question mark.

| | | |
|----|----|----|
| 4 | 14 | 49 |
| 9 | 18 | 36 |
| 16 | ? | 25 |

- (1) 18 (2) 15 (3) 30 (4) 20

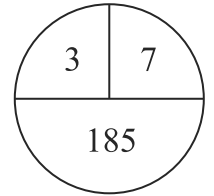
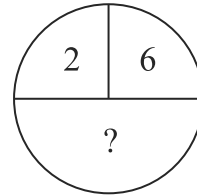
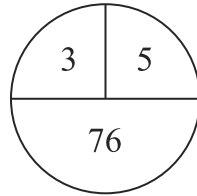
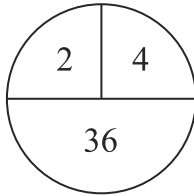
71. In a code language CAP = 341, PAN = 417, RAN = 197 is written like this. In the same language how will be the word CAR written?

- (1) 917 (2) 391 (3) 471 (4) 734

72. In a code language 246 is written as 82448. How will 579 be written in the same code language?

- (1) 305690 (2) 356399 (3) 355699 (4) 356345

73. Select the correct alternative to replace question mark.



- (1) 64 (2) 152 (3) 224 (4) 112

SPACE FOR ROUGH WORK



| | | | | | | | | | | | | | | | | | | | | | | | | |
|---|---|---|---|---|---|---|---|---|---|---|---|---|---|---|---|---|---|---|---|---|---|---|---|---|
| A | B | C | D | E | F | G | H | I | J | K | L | M | N | O | P | Q | R | S | T | U | V | W | X | Y |
|---|---|---|---|---|---|---|---|---|---|---|---|---|---|---|---|---|---|---|---|---|---|---|---|---|

69. 1 ಫೆಬ್ರವರಿ 2016 ಸೋಮವಾರ ಇತ್ತು. ಹಾಗಾದರೆ 1 ಫೆಬ್ರವರಿ 2010 ರಂದು ಯಾವ ವಾರ ಇತ್ತು ?
(1) ಸೋಮವಾರ (2) ಮಂಗಳವಾರ (3) ಗುರುವಾರ (4) ಶುಕ್ರವಾರ

70. ಪ್ರಶ್ನೆ ಚಿಹ್ನೆಯ ಸ್ಥಳದಲ್ಲಿ ಬರುವ ಯೋಗ್ಯ ಪರ್ಯಾಯ ಗುರುತಿಸಿರಿ.

| | | |
|----|----|----|
| 4 | 14 | 49 |
| 9 | 18 | 36 |
| 16 | ? | 25 |

(1) 18 (2) 15 (3) 30 (4) 20

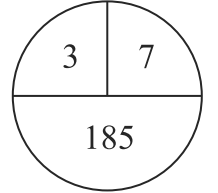
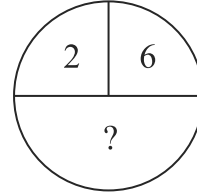
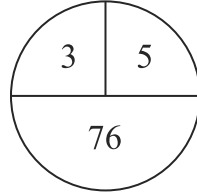
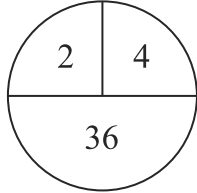
71. ಒಂದು ಸಾಂಕೇತಿಕ ಭಾಷೆಯಲ್ಲಿ ಮದನ = 417 ಸದನ = 197, ವಮನ = 341 ಎಂದು ಬರೆಯುವರು. ಹಾಗಾದರೆ ಅದೇ ಭಾಷೆಯಲ್ಲಿ 'ವಸನ' ಶಬ್ದವನ್ನು ಹೇಗೆ ಬರೆಯುವರು ?

(1) 917 (2) 391 (3) 471 (4) 734

72. ಒಂದು ಸಾಂಕೇತಿಕ ಭಾಷೆಯಲ್ಲಿ 246 ಈ ಸಂಖ್ಯೆಯನ್ನು 82448 ಎಂದು ಬರೆಯುವರು. ಹಾಗಾದರೆ ಅದೇ ಭಾಷೆಯಲ್ಲಿ 579 ಈ ಸಂಖ್ಯೆಯನ್ನು ಹೇಗೆ ಬರೆಯಲಾಗುವುದು ?

(1) 305690 (2) 356399 (3) 355699 (4) 356345

73. ಕೊಟ್ಟ ಆಕೃತಿಯಲ್ಲಿ ಪ್ರಶ್ನೆ ಚಿಹ್ನೆಯ ಸ್ಥಳದಲ್ಲಿ ಯಾವ ಸಂಖ್ಯೆ ಬರುವುದೆಂಬುದು ಪರ್ಯಾಯದಿಂದ ಆರಿಸಿರಿ.



(1) 64 (2) 152 (3) 224 (4) 112

SPACE FOR ROUGH WORK

74. Grampanchayat has appealed the local people to contribute in the 'Jalyukta Shivaar' scheme. In this situation which action will be appropriate for Atharva?
- (1) Atharva will plan for an outing with family.
 - (2) Atharva will understand the importance of the scheme and will happily contribute.
 - (3) Atharva will tell people about the drawbacks of the scheme.
 - (4) Atharva will give excuse for an important work and will stay at home.
75. While going to school you see a magic show going on. Your friend Subhash insists you to see that. What will you do?
- (1) Leaving Subhash there, you will go to school.
 - (2) Take along Subhash to school.
 - (3) Tell Subhash the importance of studies and ask him to control the temptation for magic show.
 - (4) Complain to his parents that instead of going to school he keeps watching magic show.

SPACE FOR ROUGH WORK



| | | | | | | | | | | | | | | | | | | | | | | | | |
|---|---|---|---|---|---|---|---|---|---|---|---|---|---|---|---|---|---|---|---|---|---|---|---|---|
| A | B | C | D | E | F | G | H | I | J | K | L | M | N | O | P | Q | R | S | T | U | V | W | X | Y |
|---|---|---|---|---|---|---|---|---|---|---|---|---|---|---|---|---|---|---|---|---|---|---|---|---|

74. 'ಜಲಯುಕ್ತ' ಕಾರ್ಯ ಕ್ರಮ ಸಲುವಾಗಿ ಗ್ರಾಮಪಂಚಾಯತಿಯು ನಾಗರಿಕರಿಗೆ ಶ್ರಮದಾನಕ್ಕಾಗಿ ಆವ್ವಾನಿಸಿದೆ. ಈ ಸಂದರ್ಭದಲ್ಲಿ ಅಥರ್ವನ ಯಾವ ಕೃತಿ ಯೋಗ್ಯವೆನಿಸುವದು ?

- (1) ಅಥರ್ವನು ಕುಟುಂಬದೊಂದಿಗೆ ಹೊರಗಡೆ ತಿರುಗಾಡಲು ಹೋಗಲು ನಿರ್ಧರಿಸುವನು.
- (2) ಅಥರ್ವನು ಶ್ರಮದಾನದ ಮಹತ್ವ ತಿಳಿದು ಸಂತೋಷದಿಂದ ಶ್ರಮದಾನದಲ್ಲಿ ಸಹಭಾಗಿರಾಗುವನು.
- (3) 'ಜಲಯುಕ್ತ ಶಿವಾರ' ಯೋಜನೆಯಲ್ಲಿಯ ದೋಷಗಳನ್ನು ಜನರಿಗೆ ಹೇಳುವನು.
- (4) 'ನನಗೆ ಬೇರೆ ಕೆಲಸ ಇದೆ' ಎಂದು ಹೇಳಿ ಮನೆಯಲ್ಲಿಯೇ ಉಳಿಯುವನು.

75. ಶಾಲೆಗೆ ಹೋಗುವಾಗ ರಸ್ತೆಯ ಮೇಲೆ ಜಾದುವಿನ ಆಟ ನಡೆದಿದೆ. ನಿಮ್ಮ ಮಿತ್ರ ಸುಭಾಷನು ಅದನ್ನು ನೋಡಲು ನಿಮಗೆ ಆಗ್ರಹ ಮಾಡುತ್ತಿದ್ದಾನೆ. ಆ ಸಮಯದಲ್ಲಿ ನೀವೇನು ಮಾಡುವಿರಿ ?

- (1) ಸುಭಾಷನಿಗೆ ಆಲ್ಲಯೇ ಬಿಟ್ಟು ನಾನೋಬ್ಬನೇ ಶಾಲೆಗೆ ಹೋಗುವೆನು.
- (2) ಸುಭಾಷನನ್ನು ಎಳೆದುಕೊಂಡು ಶಾಲೆಗೆ ಹೋಗುವೆನು.
- (3) ಸುಭಾಷನಿಗೆ ಅಭ್ಯಾಸದ ಮಹತ್ವ ತಿಳಿಸಿ ಜಾದುವಿನ ಆಟದ ಮೋಹ ಕಡಿಮೆ ಮಾಡಲು ಹೇಳುವೆನು.
- (4) ಸುಭಾಷನ ಮನೆಗೆ ಹೋಗಿ, ಅವನು ಶಾಲೆಗೆ ಬರದೇ ಜಾದುವಿನ ಆಟ ನೋಡುತ್ತಾನೆ ಎಂದು ಅವನ ಪಾಲಕರಿಗೆ ಹೇಳುವೆನು.

SPACE FOR ROUGH WORK

SPACE FOR ROUGH WORK